

تاریخ: فروردین ماه ۹۷
سوالات ارزشیابی

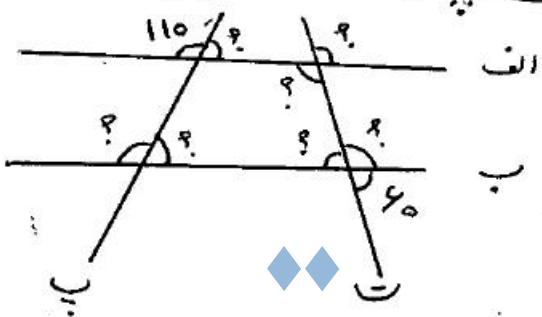
بسمه تعالی
دستان غیردولتی کمالیوم
آزمون مدارک آغدی ریاضی

نام: _____
نام خانوادگی: _____
کلاس: _____
BAHROLOLDOM SCHOOL
تاسیس ۱۳۷۲
دستان کمالیوم

۱- جاهای خالی را کامل کنید

- الف) اگر لوزی زاویه های برابر داشته باشد — می گویند.
- ب) هکراه دوخط باهم زاویه راست بسازند می گویند آن دوخط برهم —.
- ج) کوتاه ترین فاصله یک نقطه تا یک خط برابر است با خط —.
- د) دوخط عمود بر یک خط باهم —.

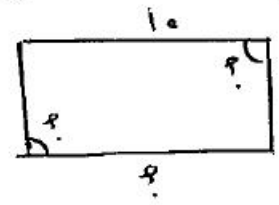
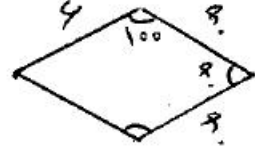
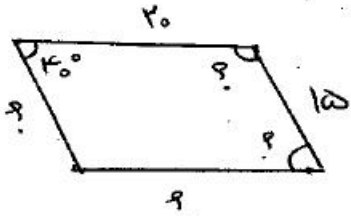
۲- در شکل زیر خط آ و ب موازی هستند و خط پ برت مورب باشد. اندازه زاویه های خواسته شده را بنویسید.



۳- اگر از یک نقطه بر طول مستطیلی خط عمود رسم کنید. پاره خط جدید چه وضعی نسبت به یکم دارد؟



۴- در هر یک از شکل های زیر اندازه زاویه خواسته شده را بنویسید.



۵- با کنار هم گذاشتن دو مثلث متساوی الساقین چه نوع چهارضلعی می توان ساخت؟

